

ORIENTACIONES PARA TERCER CURSO DE Ed. PRIMARIA

Este vídeo sencillo habla del coronavirus. Es importante que lo veas para saber qué está pasando.

<https://www.youtube.com/watch?v=prHuClGHtmY>

Estas orientaciones son para que hagas ejercicios del colegio poco a poco, algo cada día.

LENGUA

- Leer diariamente por un tiempo mínimo de quince minutos.
- Hacer una copia diaria de un fragmento de lo leído; aproximadamente unas veinte líneas.
- Buscar en el fragmento anterior y escribir tres veces cada palabra ...
 - palabras que tengan y
 - palabras con h
 - palabras que tengan h
 - palabras que van con ll
 - palabras con y
- Escribir en siete o diez líneas lo que se hizo el día anterior.
- Escribir cómo es ... un juguete, una habitación, una persona, un animal, un lugar.

MATEMÁTICAS

- Hacer sumas y restas llevando.
- Hacer multiplicaciones del tipo 6259×6 ; 9702×72 ; 1028×341
- Afianzar las tablas de multiplicar.
- Resolver problemas sencillos que requieran más de una operación.

CIENCIAS DE LA NATURALEZA

- Se puede ver en internet el tercer vídeo sobre los ecosistemas, que es éste:

<https://www.youtube.com/watch?v=CEQmu6wPKsA>

- Puedes ver otra vez estos dos vídeos para recordar algunas cosas de clase:

<https://www.youtube.com/watch?v=XKSgZ0QbgqU>

<https://www.youtube.com/watch?v=v0skWv8OHhg>

- Y en éstos verás buenos reportajes sobre la cadena alimentaria, aunque hay muchos más:

https://www.youtube.com/watch?v=_9KRhZT-dZ8

https://www.youtube.com/watch?v=LtDpx5HCG_Y

- El siguiente vídeo es sobre la FOTOSÍNTESIS de las plantas. Debes verlo con atención.

<https://www.youtube.com/watch?v=ru6rZNOg3eM>

- ¿Te acuerdas de la norma de las 3 “R” (las tres erres)? Observa atentamente este vídeo y tenlo siempre presente.

<https://www.youtube.com/watch?v=cvakvfXj0KE>

CIENCIAS SOCIALES

- Este vídeo te permitirá recordar cosas que vimos en clase:

<https://www.youtube.com/watch?v=QrMfGiaG5iI>

Nombre _____ Fecha _____

• **Suma.**

$$\begin{array}{r} 3760 \\ 864 \\ + 359 \\ \hline \end{array}$$

$$\begin{array}{r} 7497 \\ 6668 \\ + 779 \\ \hline \end{array}$$

$$\begin{array}{r} 6232 \\ 4225 \\ + 8262 \\ \hline \end{array}$$

$$\begin{array}{r} 2398 \\ 1028 \\ + 832 \\ \hline \end{array}$$

• **Resta.**

$$\begin{array}{r} 3020 \\ - 1808 \\ \hline \end{array}$$

$$\begin{array}{r} 4720 \\ - 375 \\ \hline \end{array}$$

$$\begin{array}{r} 1567 \\ - 638 \\ \hline \end{array}$$

$$\begin{array}{r} 6542 \\ - 1796 \\ \hline \end{array}$$

• **Multiplica.**

$$\begin{array}{r} 714 \\ \times 7 \\ \hline \end{array}$$

$$\begin{array}{r} 245 \\ \times 6 \\ \hline \end{array}$$

$$\begin{array}{r} 709 \\ \times 5 \\ \hline \end{array}$$

$$\begin{array}{r} 519 \\ \times 4 \\ \hline \end{array}$$

$$\begin{array}{r} 377 \\ \times 6 \\ \hline \end{array}$$


$$\begin{array}{r} 427 \\ \times 8 \\ \hline \end{array}$$

$$\begin{array}{r} 198 \\ \times 7 \\ \hline \end{array}$$


$$\begin{array}{r} 638 \\ \times 3 \\ \hline \end{array}$$

• **Coloca y calcula.**


$$493 + 2.185 + 29$$



$$9.200 - 956$$




$$1.546 \times 7$$



Nombre _____ Fecha _____

Adrián ha comprado hoy 1 caja de manzanas, 1 caja de plátanos y 1 caja de peras. ¿Cuántos kilos de fruta ha comprado?



1. Comprende.


Pregunta: _____

Datos: _____

2. Piensa qué hay que hacer.

- una suma.
 una multiplicación.
 una suma y una multiplicación.

3. Calcula.



Respuesta: _____

Juan necesita un ordenador y una impresora que cuestan 4.532 €. Tiene ahorrados 3.200 €. ¿Cuánto dinero le falta para poder comprar el ordenador y la impresora?

1. Comprende.


Pregunta: _____

Datos: _____

2. Piensa qué hay que hacer.

- una suma.
 una resta.
 una suma y una resta.

3. Calcula.



Respuesta: _____