

¿Cómo son los peces, los reptiles y los anfibios?

Los peces

Los peces suelen tener el cuerpo cubierto de escamas. No tienen patas, sino aletas para . Son animales ovíparos. Algunos peces viven en las aguas dulces de los ríos y lagos, como las truchas, y otros viven en las aguas saladas del mar, como los tiburones.




Los reptiles

Los reptiles son animales ovíparos. Todos los reptiles tienen el cuerpo cubierto de escamas. La mayoría tiene cuatro patas cortas y una cola. Las serpientes son reptiles sin patas, por eso reptan, es decir, se desplazan arrastrándose por el suelo. Hay otros reptiles que protegen su cuerpo con un caparazón, como las tortugas.

Los anfibios

Los anfibios son ovíparos. Tienen la piel desnuda, pues son animales sin pelo ni plumas ni escamas. Todos los anfibios tienen cuatro patas. Algunos anfibios tienen cola, como la salamandra, y otros no, como el sapo.






1.-Observa y colorea los animales según el grupo al que pertenezcan.

De rojo: Anfibio.



De rojo: Reptil.

De azul: Pez.



2.- ¿Qué tienen en común los anfibios, reptiles y peces?.Escribe.

3.- Observa y contesta.



¿ En qué se parecen?



¿En qué se diferencian?

RESUMEN: Une cada característica con el grupo o grupos que corresponda.

Tienen escamas.

peces

Tienen la piel desnuda.

Tienen aletas.

anfibios

Tienen patas.

Tienen huesos.

reptiles

Son ovíparos.


Dibuja un reptil, un anfibio y un pez.

RESOLVEMOS PROBLEMAS

1.-¿Cuántas copas hay en 5 mesas como esta?



2.-¿Cuántas frutas hay en 7 cestas como esta?




3.-¿Cuántas fotos hay en 2 marcos como este?



4.-¿Cuántas flores hay en 4 jardineras como esta?



5.- Un equipo de música tiene 2 altavoces. ¿Cuántos altavoces tienen 7 equipos de música iguales?



Solución: _____

6.-Una banda de música ha actuado 3 veces en 1 mes ¿Cuántas veces actuará en 6 meses?

Solución: _____

7.- En una caja de rotuladores hay 5 rotuladores. ¿Cuántos rotuladores hay en 3 cajas?

Solución: _____

CALCULA.

$2+2=$

$2+2+2+2=$

$5+5+5=$

$3+3+3+3=$

$3+3+3+3+3+3=$

$5+5+5+5+5=$

8.-Completa las oraciones con estas palabras.Luego,cópialas.

paraguas Gustavo guía negro

Maspalomas aguacero agujeros

_____era _____turístico en _____

Siempre llevaba su _____

Un día le sorprendió un gran _____

Y el _____ se llenó de _____

DIBUJO LIBRE.

9.-Copia cada palabra donde corresponda.

cigüeña

Tienen gü. Se pronuncia la u.

guiso

piragüismo

guerrero

vergüenza

manguera

Tiene gu. No se pronuncia la u

10.-Inventa una oración con la palabra *piragüista* y escríbela.

11.-Escribe cómo se leen.

637= _____

754= _____